

# どうぶつ まんしよん

ひだり


1

2


3

みぎ


1




2



3



4



5



# もんだい

- ① ひだりから2ばんめ、うえから1ばんめのどうぶつはだれでしょう。
- ② みぎから1ばんめ、したから3ばんめのどうぶつはだれでしょう。
- ③ みぎから2ばんめ、うえから4ばんめのどうぶつはだれでしょう。
- ④ ひだりから2ばんめ、したから3ばんめのどうぶつはだれでしょう。
- ⑤ きょうりゅうはみぎからなんばんめ、うえからなんばんめでしょう。
- ⑥ ぶたはみぎからなんばんめ、したからなんばんめでしょう。
- ⑦ うさぎはひだりからなんばんめ、うえからなんばんめでしょう。
- ⑧ ひつじはみぎからなんばんめ、うえからなんばんめでしょう。