

どうぶつ まんしゅん

ひだり


1

2


3

みぎ


1



2



3



4



5



どうぶつ まんしょん こたえ

- ① ひだりから2ばんめ、うえから1ばんめのどうぶつはだれでしょう。
→ うし
- ② みぎから1ばんめ、したから3ばんめのどうぶつはだれでしょう。
→ ぱんだ
- ③ みぎから2ばんめ、うえから4ばんめのどうぶつはだれでしょう。
→ うま
- ④ ひだりから2ばんめ、したから3ばんめのどうぶつはだれでしょう。
→ らいおん
- ⑤ きょうりゅうはみぎからなんばんめ、うえからなんばんめでしょう。
→ みぎから3ばんめ、うえから4ばんめ
- ⑥ ぶたはみぎからなんばんめ、したからなんばんめでしょう。
→ みぎから1ばんめ、したから5ばんめ
- ⑦ うさぎはひだりからなんばんめ、うえからなんばんめでしょう。
→ ひだりから2ばんめ、うえから2ばんめ
- ⑧ ひつじはみぎからなんばんめ、うえからなんばんめでしょう。
→ みぎから1ばんめ、うえから5ばんめ